

LE BRESIL

LES PUISSANCES EMERGENTES




Rio



Lula da Silva



Dilma Rousseff



Un pays émergent est un **pays à croissance économique rapide** mais où le revenu par habitant est encore **inférieur à celui des pays développés**.
Seulement quelques pays intègrent cette catégorie comme l'Inde, la Chine ou encore le Brésil...

LE BRÉSIL

LES PUISSANCES EMERGENTES

*En quoi le
Brésil est-il
une puissance
émergente ?*





LE BRESIL

LES PUISSANCES EMERGENTES



BRESIL RUSSIE CHINE INDE

I / Le Brésil,
pays des
inégalités







Le Brésil se situe à l'est de l'Amérique du Sud, il est bordé par l'océan Atlantique. Trois grandes métropoles brésiliennes : **São Paulo** et **Rio de Janeiro** au sud-est, sur la côte Atlantique ; **Brasília**, la capitale, au centre du pays.

LES CHIFFRES du Brésil

Superficie: **8,5** millions de km²

Population: **190** millions d'habitants

PIB: **2023** milliards de dollars

PIB/hab.: **10900** dollars

51% de la population d'Amérique du Sud et **55%** de sa richesse

Grand producteur de ressources minières (**1^{er}** rang pour le fer)

Grand producteur agricole : **1^{er}** rang pour le café, les agrumes, le sucre, le poulet ; **2^e** rang pour le soja et la viande bovine

4^e constructeur mondial d'avions

9^e pour la production d'acier

10^e pour l'automobile

8^e puissance économique mondiale

LE BRÉSIL

LES PUISSANCES EMERGENTES



A light green map of Brazil is shown in the background. Overlaid on the map is the Brazilian national flag, which consists of a yellow rhombus with a green field in the center. Inside the green field is a blue globe with white stars and a white banner with the text 'ORDEM E PROGRESSO'.

Carte d'identité du Brésil :

Population : 206 millions d'habitants.

Capitale : Brasilia

Superficie : 8,5 millions de km²

PIB (richesse produite) : 1700 milliards d'\$

PIB par habitant : 11 000 \$ par hab./an

IDH : 0.75 sur 1

*Quelle image le
cinéma donne-
t-il du Brésil ?*






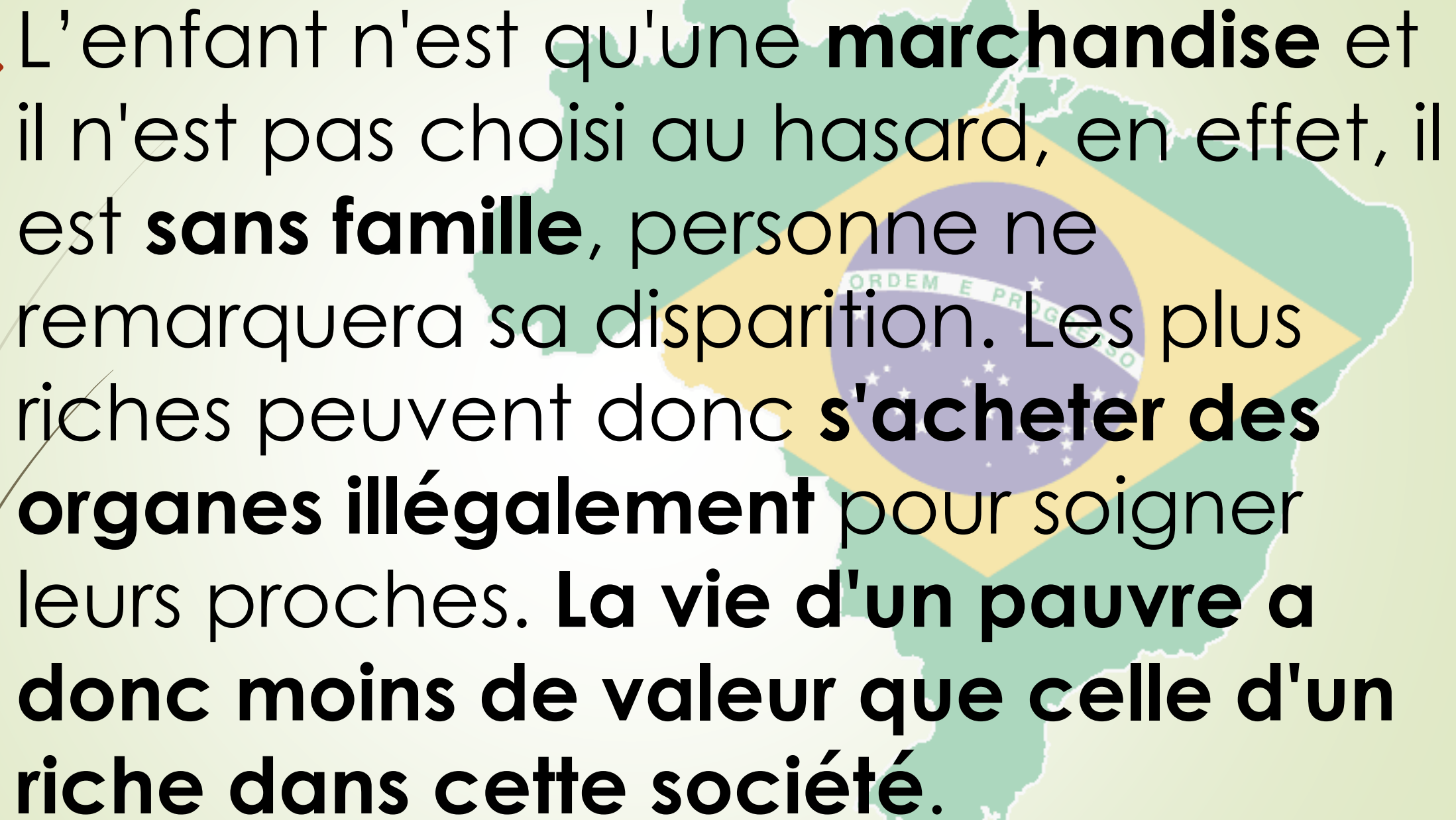
Compétence
**Analyser des extraits
vidéos**



a. Le Brésil,
pauvreté et
violence sociale

Extrait de **Central do
Brasil**





L'enfant n'est qu'une **marchandise** et il n'est pas choisi au hasard, en effet, il est **sans famille**, personne ne remarquera sa disparition. Les plus riches peuvent donc **s'acheter des organes illégalement** pour soigner leurs proches. **La vie d'un pauvre a donc moins de valeur que celle d'un riche dans cette société.**



I/ Le Brésil, une puissance émergente ouverte sur le monde

- grandes métropoles
- Capitale politique

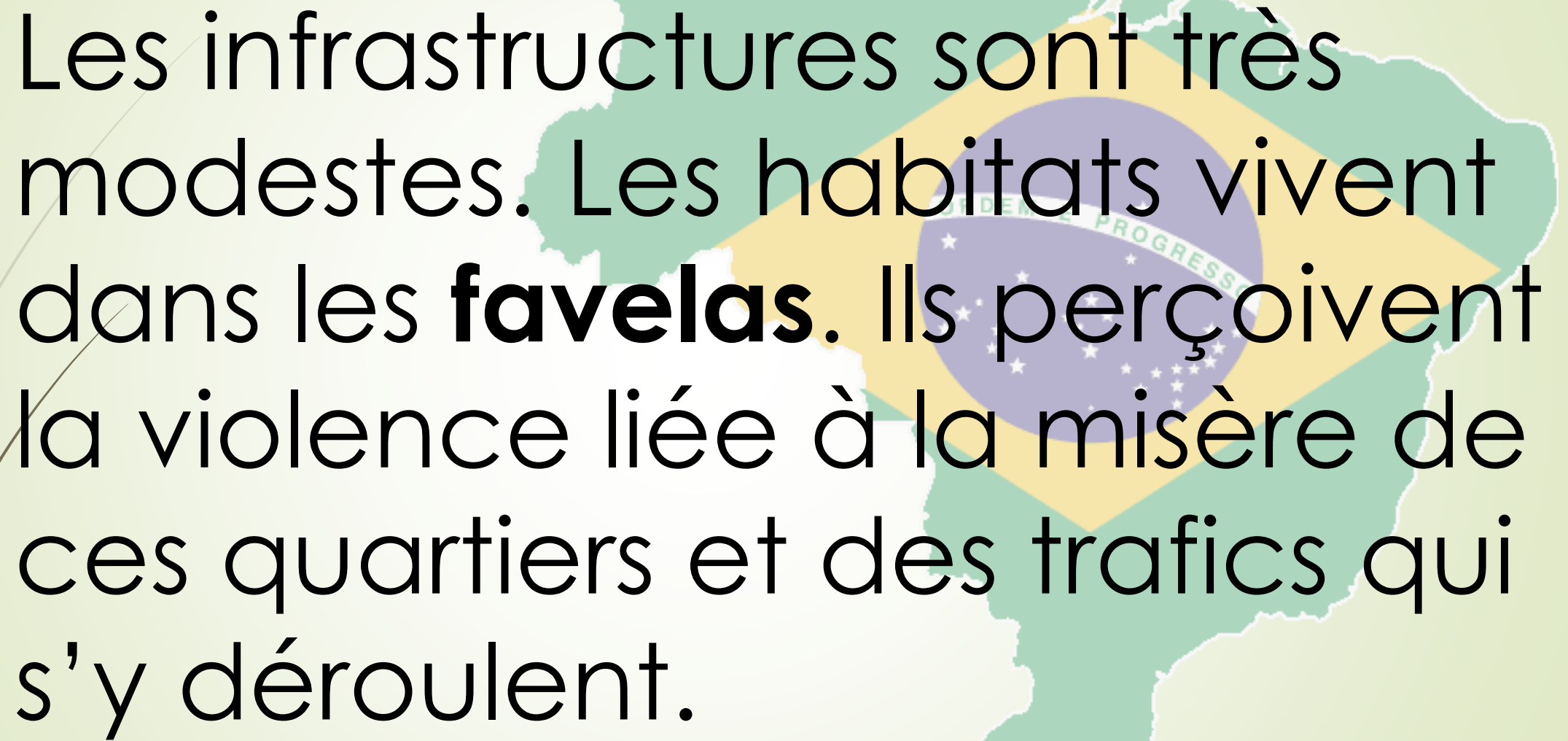




b. Le Brésil,
pauvreté et
violence urbaine

Extrait de La *Cité de Dieu*






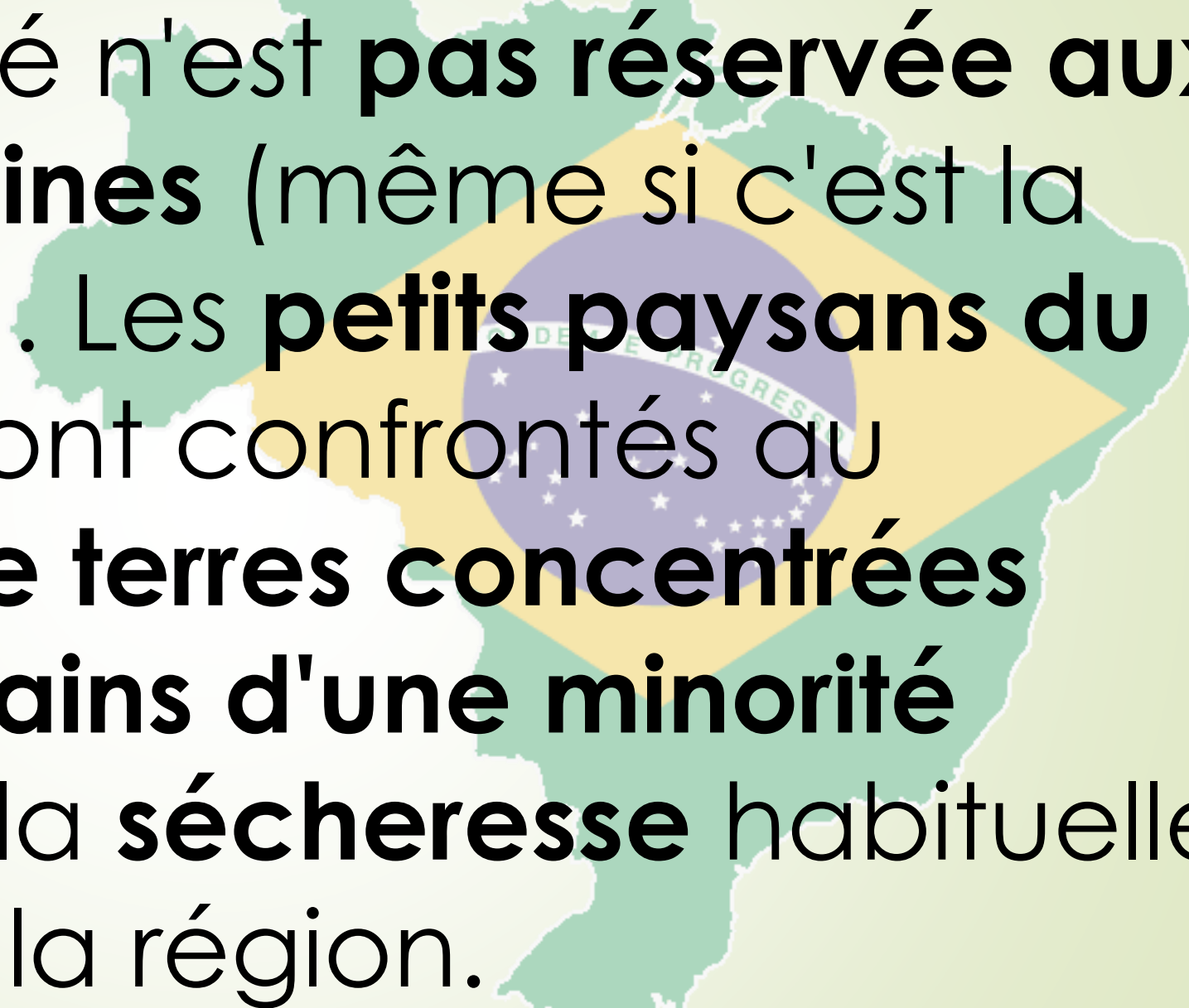
Les infrastructures sont très modestes. Les habitants vivent dans les **favelas**. Ils perçoivent la violence liée à la misère de ces quartiers et des trafics qui s'y déroulent.




c. Le Brésil, la
pauvreté rurale.



Extrait du documentaire
Le marché de la faim :
paysans sans terre dans le
Nordeste (deuxième
partie du film).



La pauvreté n'est **pas réservée aux zones urbaines** (même si c'est la plus visible). Les **petits paysans du Nordeste** sont confrontés au **manque de terres concentrées dans les mains d'une minorité riche**, et à la **sécheresse** habituelle qui frappe la région.

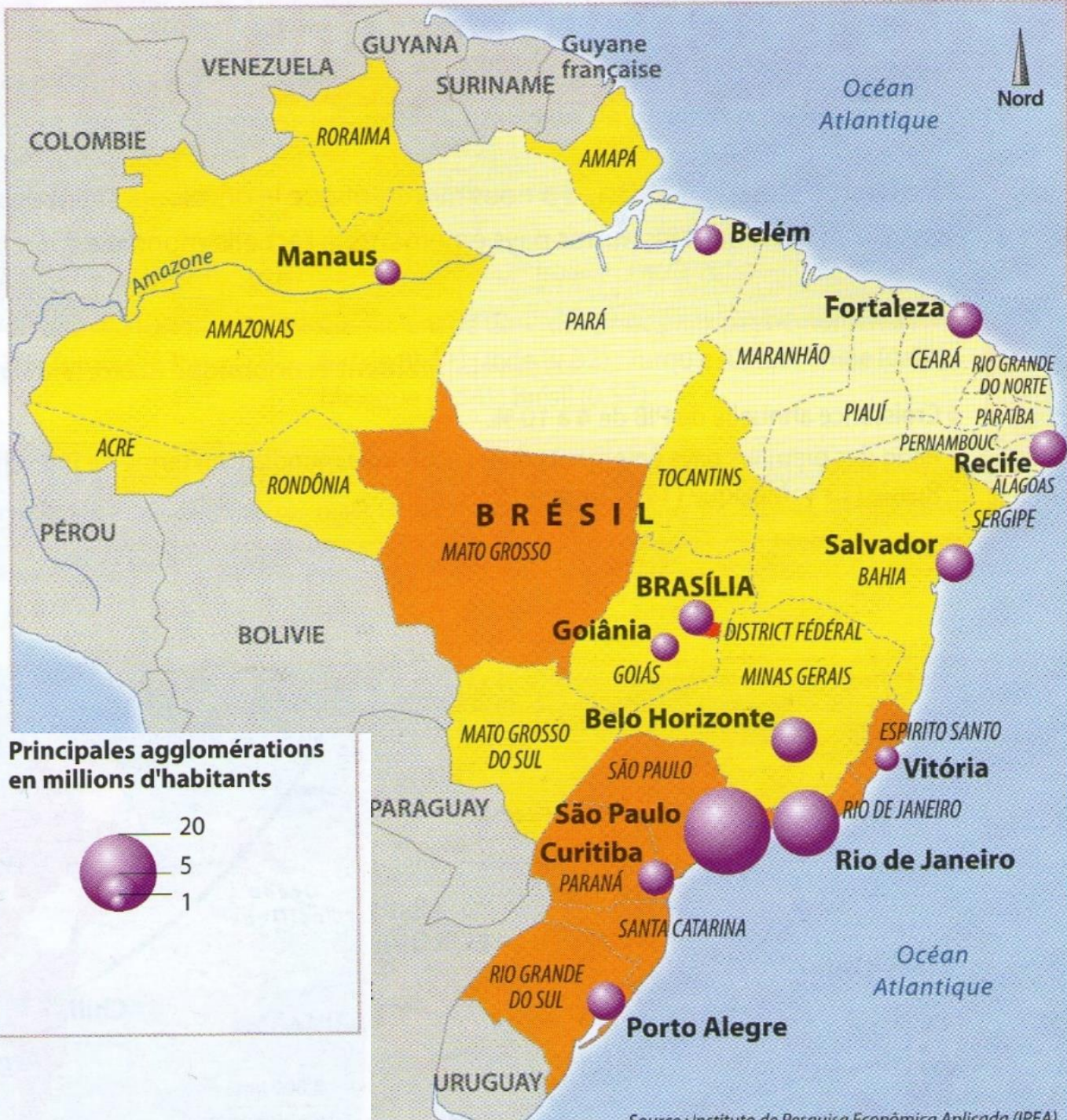
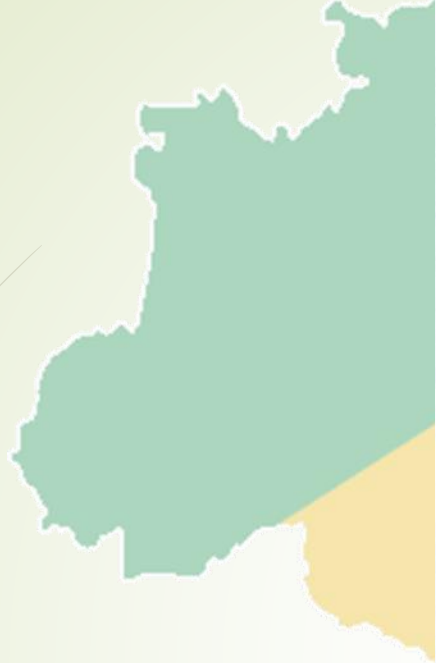


Compétence
**Analyser des
documents variés**



1 Recife, une ville en plein développement dans une région pauvre

a. Résidences de luxe. b. L'océan Atlantique. c. La plage où se côtoient touristes et population locale. d. Route côtière. e. Bidonvilles derrière le quartier d'affaires.



4 | Les inégalités régionales au Brésil

Source : Instituto de Pesquisa Econômica Aplicada (IPEA)

2



Il s'agit de la ville de **Recife**.
Elle se situe au **nord-est** du
Brésil, sur le littoral de la côte
atlantique.







2 | Les différentes catégories sociales au Brésil

Les Brésiliens de classe moyenne qui représentaient 42,5 % de la population en 2003, au début du premier mandat du président Luiz Inácio Lula da Silva, sont aujourd'hui 52 % des 187 millions d'habitants du pays [...]. Quant aux très riches, ils ont également augmenté mais en moindre proportion, passant de 11,6 % en 2003 à 15,5 % aujourd'hui. En revanche, le nombre de pauvres a nettement diminué dans la période, passant de 46 % en 2003 à 32,5 % aujourd'hui. Pour la première fois depuis plusieurs décennies, le nombre de Brésiliens appartenant à la classe moyenne devance celui des pauvres. [...] Les progrès sont dus à la croissance économique du pays et aux programmes sociaux mis en place par le gouvernement.

AFP/Cyberpresse, 14 août 2008.

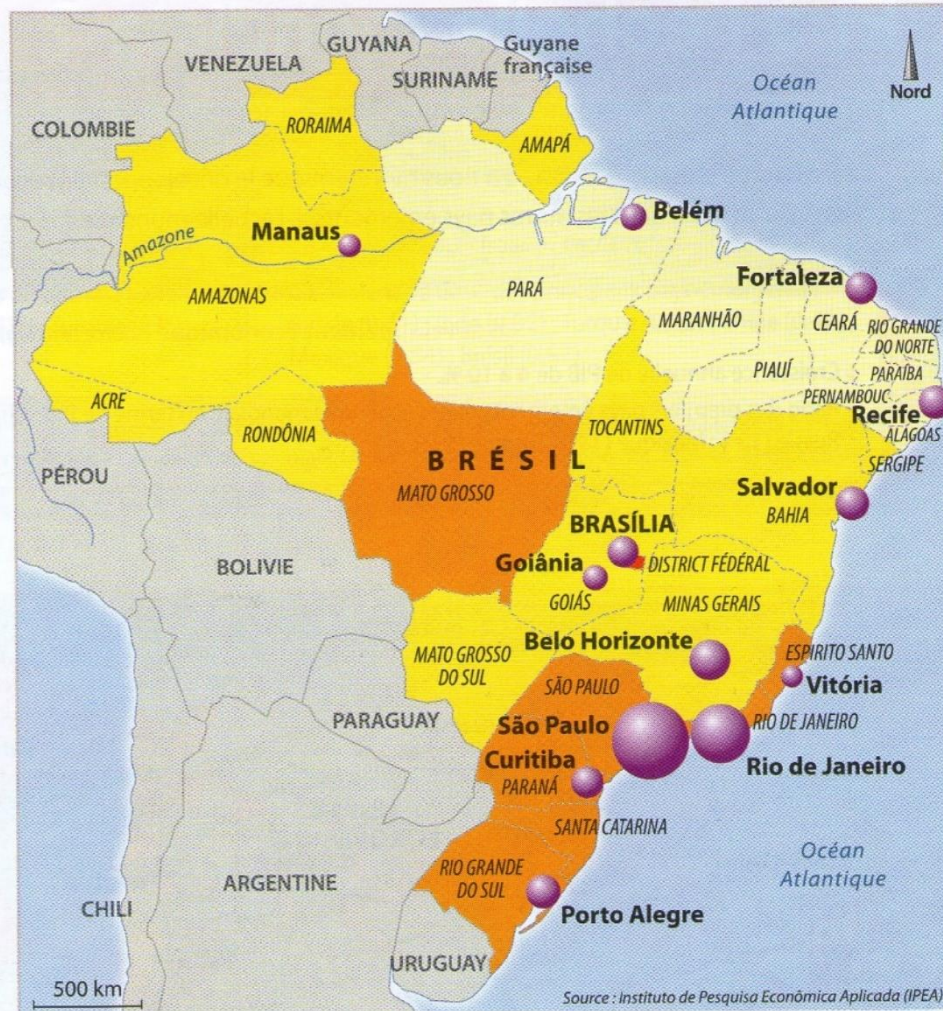




3 Développement et inégalités au Brésil

Des progrès importants ont été enregistrés dans le domaine de la santé et de l'éducation. Les indicateurs sociaux mettent ainsi en évidence une réduction des inégalités sociales qui restent toutefois très importantes. Ainsi en 2007, les 50 % les plus pauvres recevaient 14,7 % du revenu total (contre 12,1 % en 1997), alors que les 10 % les plus riches bénéficiaient de 43,8 % du revenu total (contre 47,7 % auparavant). 17 % de la population vivait sous le seuil de pauvreté (contre 27 %). Dans le même temps, la mortalité infantile est passée de 38 ‰ à 24 ‰. Les inégalités régionales restent toutefois très importantes : la part de la population vivant sous le seuil de pauvreté atteint les 35 % dans la région Nordeste, contre 8 % pour les régions Sud et Sudeste. De même, 88 % des foyers de la région Sud-Est ont accès au tout-à-l'égout contre 53 % pour la région Nordeste. Les inégalités entre zones rurales et urbaines sont également très importantes.

bresil.org, site de l'ambassade de France au Brésil, 2010.

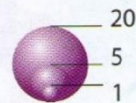


PIB par habitant

- Plus de 18 000 reais
- 11 501 à 18 000 reais
- 6 000 à 11 500 reais
- Moins de 6 000 reais

1 euro = 2,30 reais (en janvier 2011)

Principales agglomérations en millions d'habitants



4 Les inégalités régionales au Brésil

3



- **Photographie de droite :**
immeubles résidentiels récents et très modernes, destinés à une population aisée, s'étendent le long de la plage de sable qui borde l'océan Atlantique.

3



- Éléments de développement et de modernité :
le quartier d'affaires, les immeubles résidentiels récents, la plage (tourisme) et la route côtière.

3



- Photographie de gauche :
bidonville et ses maisons en tôle sans équipements et insalubres sous un pont d'une autoroute urbaine, au premier plan, et le quartier d'affaires avec de hauts immeubles type gratte-ciel, au second plan.

3



- Éléments de pauvreté :
le bidonville et ses maisons
en tôle sans équipements







Ces améliorations s'expliquent par la **croissance économique** et les **programmes sociaux** mis en place par le gouvernement du **président Lula**.

6



Les éléments qui montrent le développement : augmentation de la classe moyenne, des plus riches et diminution des plus pauvres (de 46 à 32 %) ; progrès dans le domaine de la santé et de l'éducation.

6



Les inégalités sociales : même si elles ont diminué, elles restent importantes. 50 % des plus pauvres détiennent 14 % du revenu total, alors que 10 % des plus riches, 43 %.

6



entre le Nordeste et l'ensemble Sud et Sudeste : 35 % de personnes vivent sous le seuil de pauvreté dans le Nordeste, contre 8 % dans le Sud et Sudeste. De plus, les inégalités « entre zones rurales et urbaines restent très importantes ».



Il s'agit d'**inégalités spatiales** :
ici entre régions.

Les régions les plus pauvres
sont au **nord-est** et les plus
riches au **sud**.

Démontrez que le Nordeste est une région pauvre du Brésil.

C/ Le Nordeste

«Le Nordeste est la région la plus pauvre du Brésil, et par bien des aspects, il évoque d'autres zones de misère: le *sertão** n'est pas sans parenté avec le Sahel; la situation des petits paysans évoque la misère des paysans d'Haïti. 30 % des Nordestins gagnent moins d'un salaire minimum par mois et 50 % moins de trois salaires minimum, seuil au-dessous duquel une famille est officiellement considérée comme pauvre. »

D'après Hervé Théry, *ouvr.cit.*

* Savane aride de l'intérieur du Nordeste.



Clivage entre un quartier aisé et une favela

Rocinha est la plus grosse favela d'Amérique du Sud, elle comprend entre 150 000 et 300 000 habitants, le chiffre exact n'étant pas connu, aucun recensement n'ayant jamais été effectué. Elle se situe entre les quartiers aisés de São Conrado et Gavea. Le revenu moyen des habitants est inférieur à 23 euros par mois.

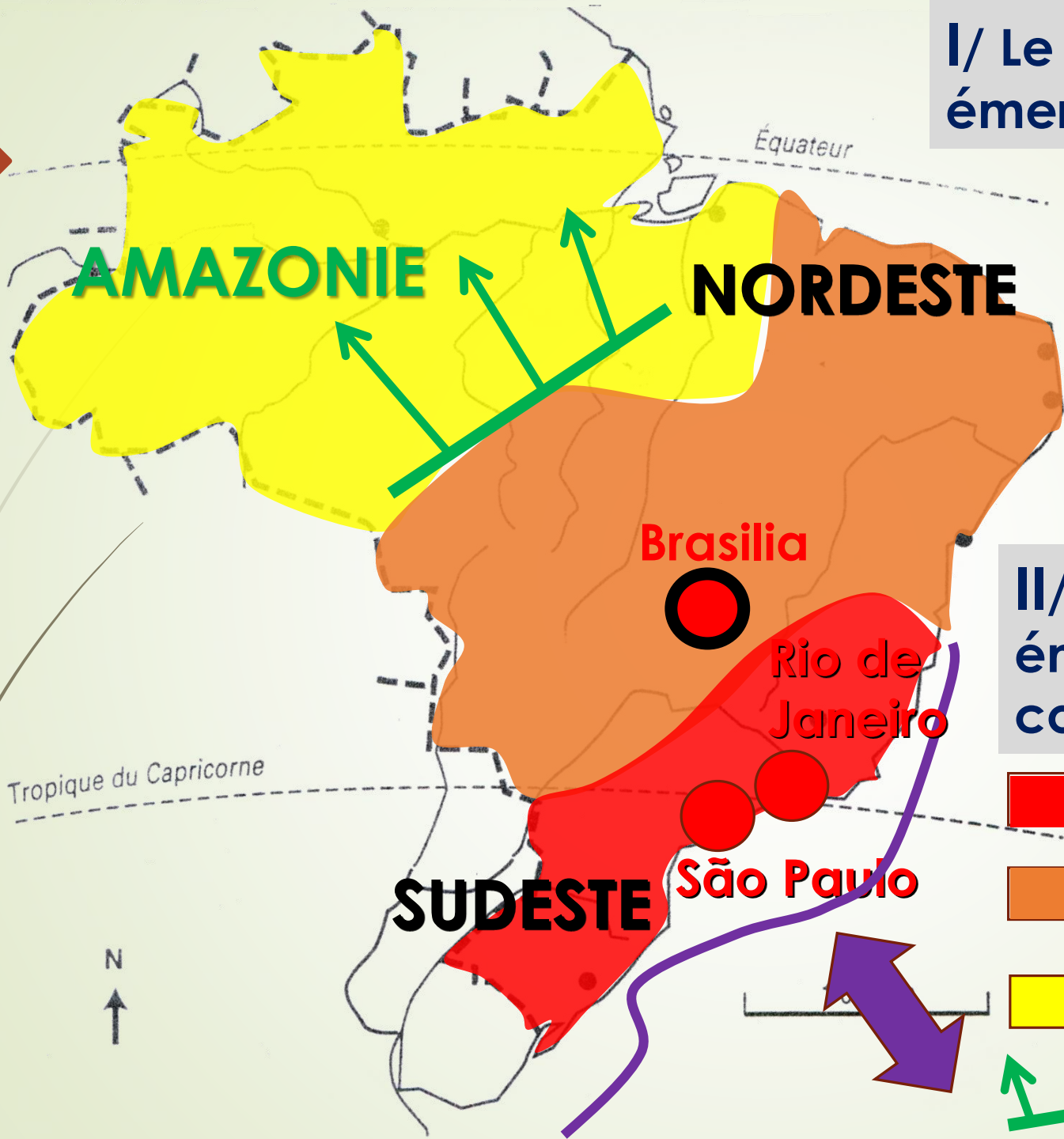
LES IMMEUBLES AISES

LES FAVELAS



Compétence
Réaliser un croquis

I/ Le Brésil, une puissance émergente ouverte sur le monde



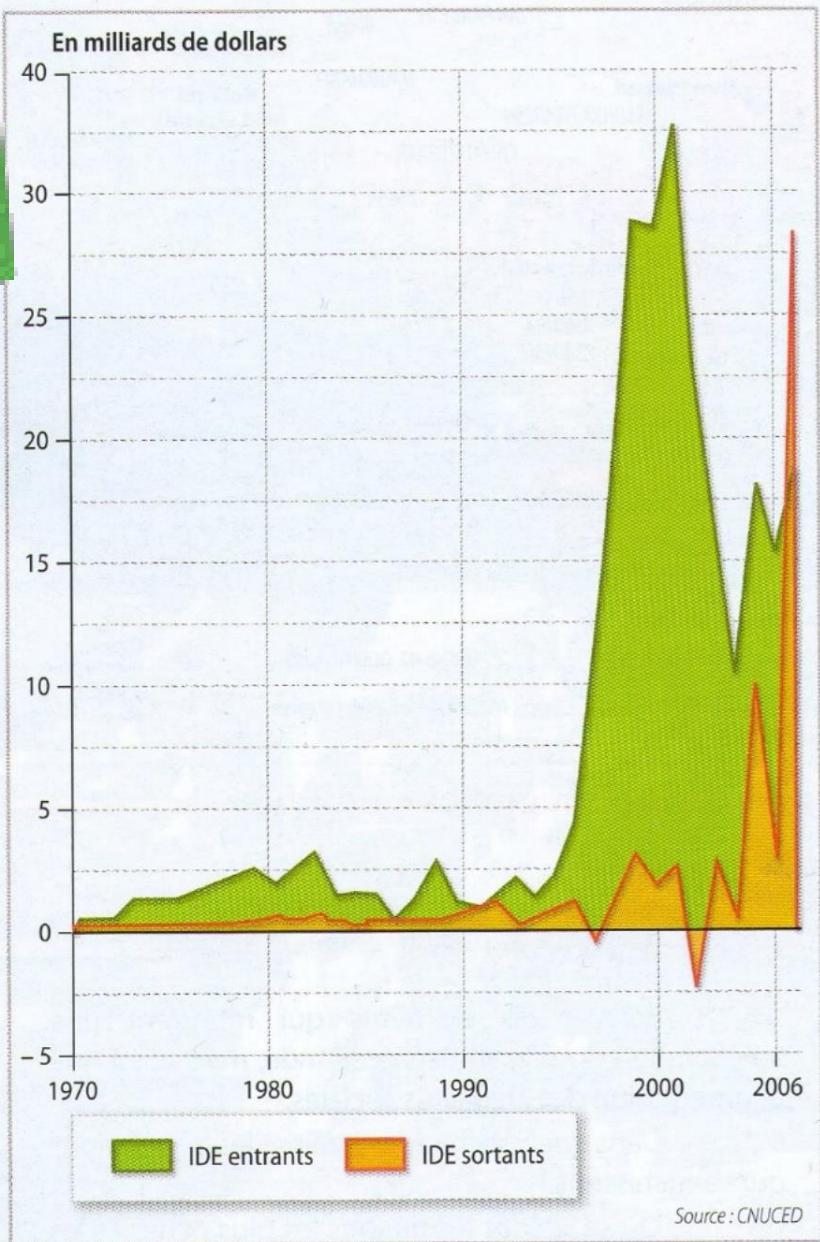
- grandes métropoles
- capitale politique
- ↔ Flux montrant l'émergence du Brésil
- Littoral dynamique

II/ Le Brésil, une puissance émergente avec des contrastes de développement

- Des régions dynamiques ouvertes sur le monde
- Des régions en cours d'intégration
- Des régions à l'écart de la mondialisation
- ↗ Fronts pionniers

II/ Le Brésil,
en tête de
l'émergence
sud-américaine





1 | L'évolution des IDE¹ au Brésil

1. Investissements directs à l'étranger (voir p. 272).

8



Les IDE entrants et sortants sont **faibles** (entre 0 et 5 milliards de dollars) et **stables de 1970 à 1995**. À cette date, les IDE entrants **augmentent brutalement jusqu'à 35 milliards de dollars**, puis **restent supérieurs à 10 milliards de dollars**. Les IDE sortants augmentent fortement à partir de 2005 mais sont **très fluctuants**.

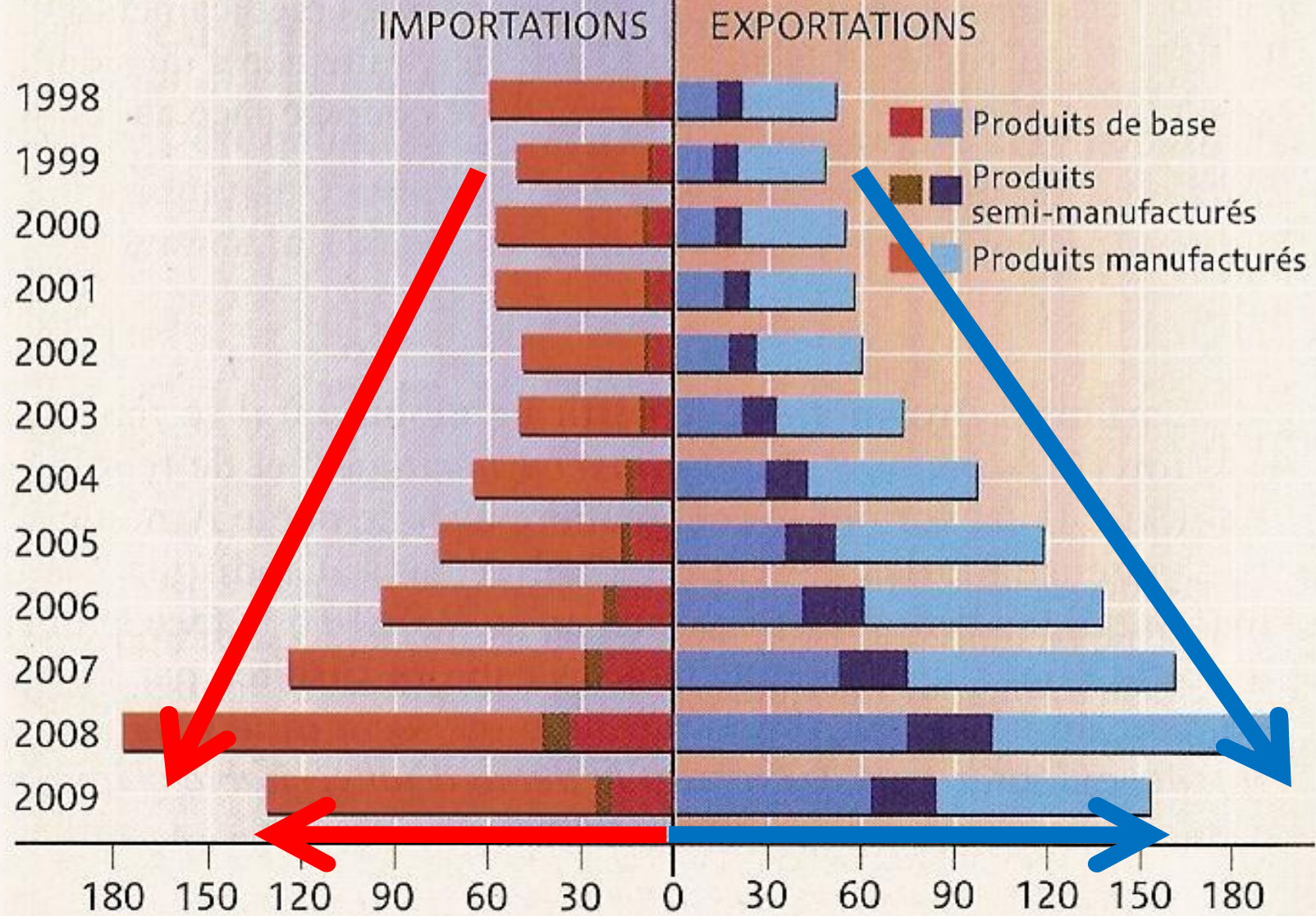


Compétence

Analyser un graphique



Milliards de dollars



Source : Ministério do desenvolvimento, indústria e comércio exterior (Secex).



	1970	1990	2006
<i>IDE entrants</i>			
<i>IDE partants</i>			



	1970	1990	2006
<i>IDE entrants</i>			
<i>IDE partants</i>			



2 | La puissance agricole brésilienne

Les exportations agroalimentaires du Brésil ont connu une croissance régulière depuis le milieu des années 1980, avec une véritable explosion depuis 2001. Entre 2001 et 2005, elles ont ainsi progressé de 16,3 % par an en moyenne, cette augmentation ayant été encore plus soutenue, s'établissant à 26 % par an, à destination de certains pays émergents, comme la Russie ou la Chine. [...] Le Brésil est parvenu, au fil des ans, en tête des exportations mondiales de soja, de sucre et d'éthanol¹, de bœuf, de poulet, de tabac ou de jus d'orange.

[...] Ces **filières agroexportatrices** sont portées par de puissants groupes brésiliens, tels que le géant Brasil Foods [...] ou par des **firmes transnationales** d'origine étrangère très présentes au Brésil (Monsanto, Syngenta, Unilever, Nestlé, Bunge, Danone, etc.)

« Le Brésil, ferme du monde ? »,
geoconfluences.ens-lsh.fr, mai 2009.

¹. Alcool primaire servant à la fabrication de carburant appelé biocarburant.





3 | Un exemple de la puissance industrielle et technologique brésilienne

Le Brésil est l'un des leaders mondiaux dans le domaine de la construction aéronautique. Le constructeur national Embraer (Empresa brasileira de aeronautica¹) est le troisième plus important au monde, après Boeing et Airbus, tant par le nombre de livraisons annuelles que par les effectifs de l'entreprise. Mieux, c'est le leader mondial dans le domaine des jets privés sur mesure. Au Brésil, Embraer fait partie des trois plus grosses entreprises exportatrices. [...] Embraer compte près de 24 000 employés et réalise un chiffre d'affaires annuel [...] de 3,3 milliards d'euros. [...] Elle dispose de bureaux commerciaux en France (à Villepinte), aux États-Unis, en Chine et à Singapour. [...] La plupart des grandes compagnies aériennes utilisent ces avions de fabrication brésilienne.

L. Guerinaud, lepetitjournal.com, São Paulo, 14 janvier 2009.

¹. Entreprise brésilienne d'aéronautique.





Les secteurs évoqués sont
l'agriculture, l'industrie et le
commerce.

Le Brésil est performant dans ces
secteurs, c'est par exemple le **1er**
exportateur de soja, de bœuf, de
tabac, et l'entreprise aéronautique
Embraer est la 3e mondiale.



10 Embraer 190

Exploités par Régional

Longueur / Length : 36,24 m

Envergure / Wingspan : 28,72 m

Nombre de sièges / Number of seats : 100

Vitesse de croisière / Cruising speed : Mach .79

et / and 10 Embraer 170 exploités par Régional

10



Les pays qui investissent au Brésil sont les **États-Unis**, la **Suisse** (Nestlé) et la **France**.

Le Brésil investit en **France**, aux **États-Unis**, en **Chine** et à **Singapour**.



4 Le stade de Rio de Janeiro

Un des 13 stades qui accueilleront la coupe du monde de football en 2014, un événement retransmis sur toutes les télévisions du monde.

A map of Brazil is shown in a light green color. Overlaid on the map is the flag of Brazil, which consists of a yellow rhombus with a green field in the center. Inside the green field is a blue globe with white stars and a white banner with the text "ORDEM E PROGRESSO".

Le clip d'organisation des JO 2016 à Rio

<http://www.youtube.com/watch?v=A5353iWed90>



FIFA WORLD CUP
Brasil

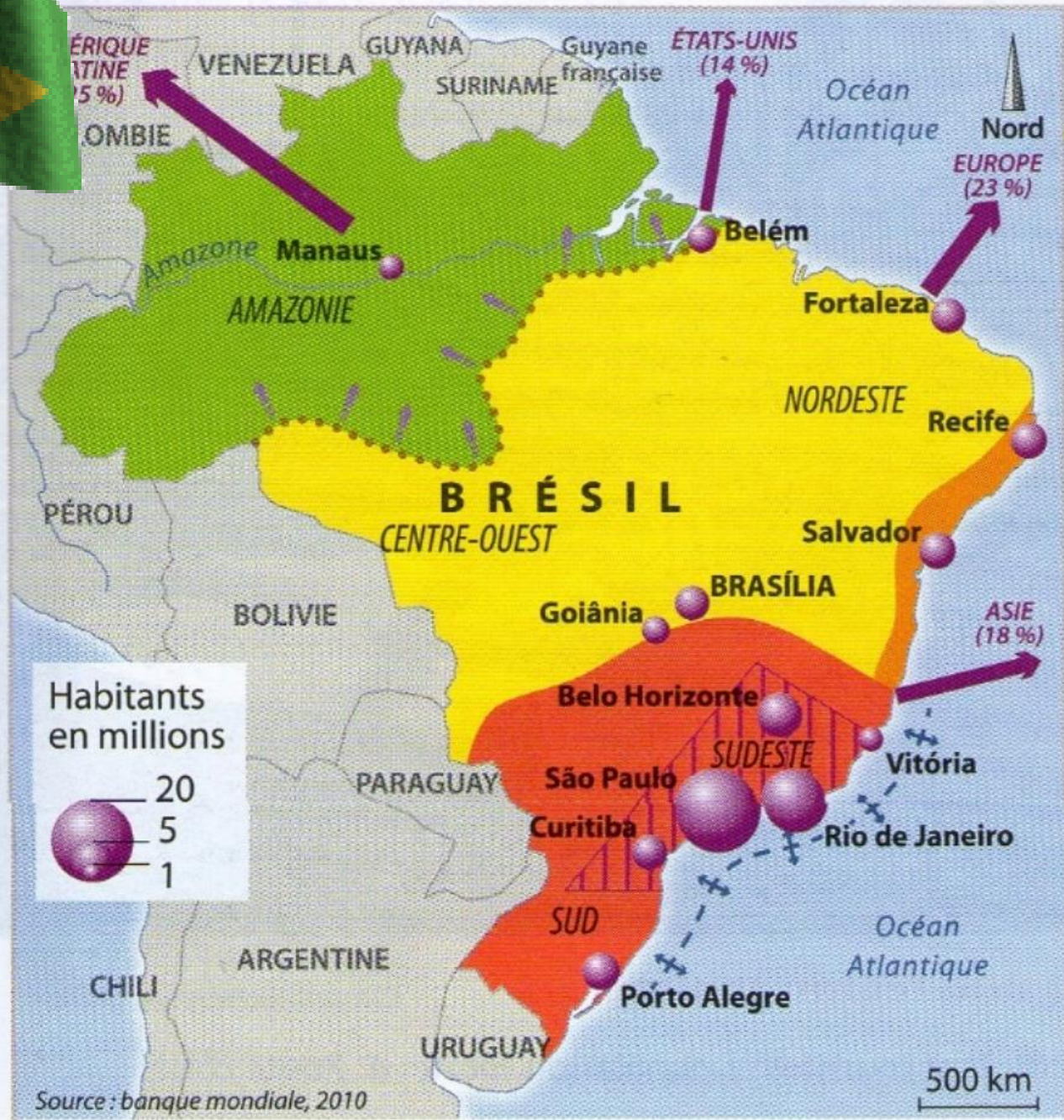


Le Brésil a accueilli la **coupe du monde de football en 2014.**

Cet événement est un indice du développement économique du pays, car **il est de dimension mondiale.** Pour pouvoir l'organiser, il faut **construire de nombreuses infrastructures modernes** : installations sportives, moyens de transport, hôtels, moyens techniques pour retransmettre la compétition, etc. De plus, il faut être **capable d'assurer la sécurité.**



5 L'organisation de l'espace brésilien



- Les espaces productifs**
- Agriculture intensive, très mécanisée et exportatrice
 - Grandes plantations (agriculture exportatrice)
 - Petites exploitations paysannes et élevage extensif
 - Forêt amazonienne en diminution due à la déforestation
 - Front pionnier amazonien
 - Cœur industriel : 70 % de la production industrielle
- Les villes**
- Principales agglomérations
- Une puissance ouverte sur le monde**
- Ouverture maritime très dynamique
 - Principales exportations (avec leurs destinations)

12



Les espaces les plus productifs sont le **Sudeste** (*agriculture moderne et industries*) et le reste du littoral atlantique jusqu'à Recife.



13



Le Brésil peut encore
développer son agriculture
grâce au **front pionnier
amazonien.**



III. Les pays émergents dans le monde

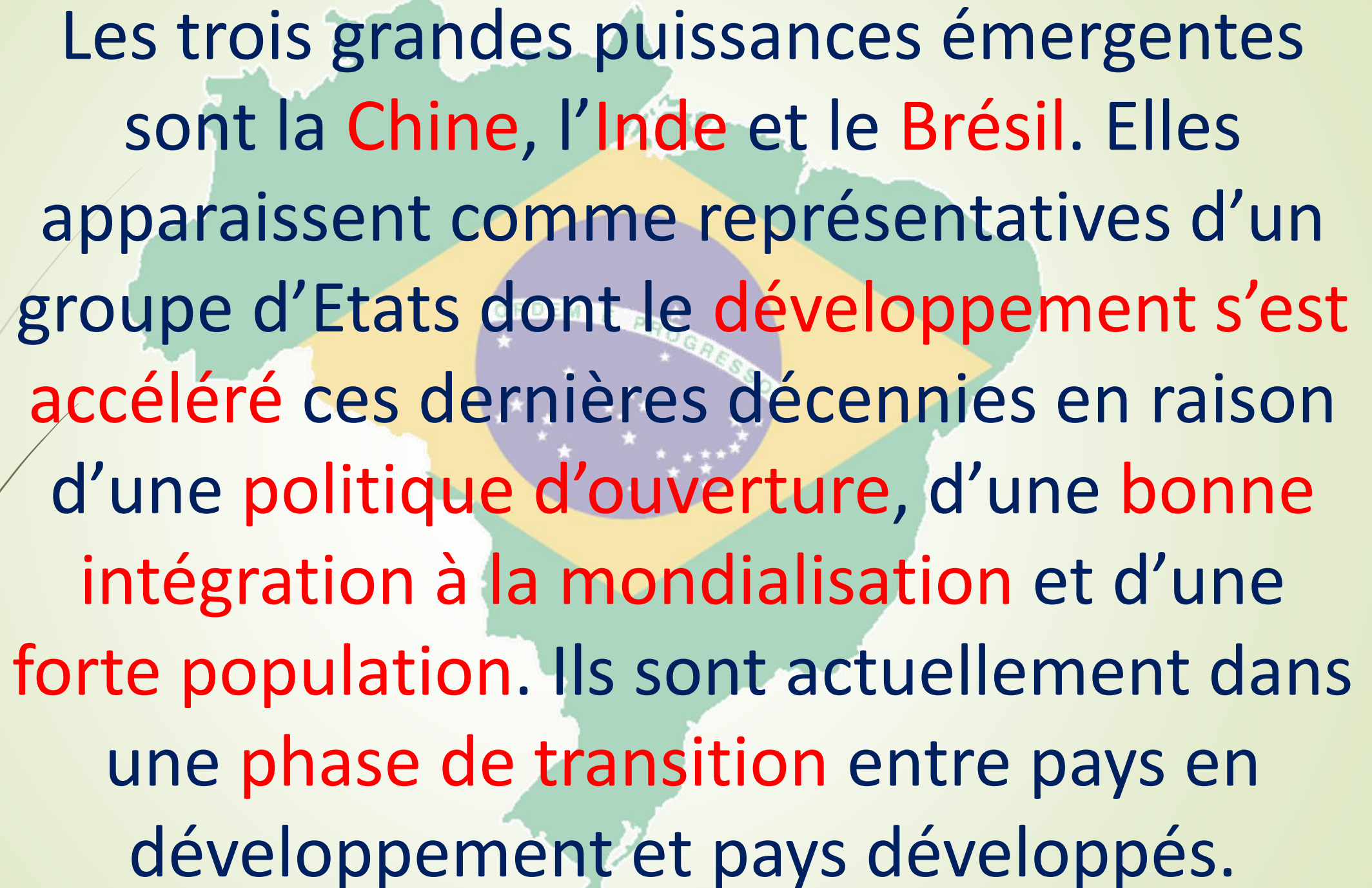


BRESIL

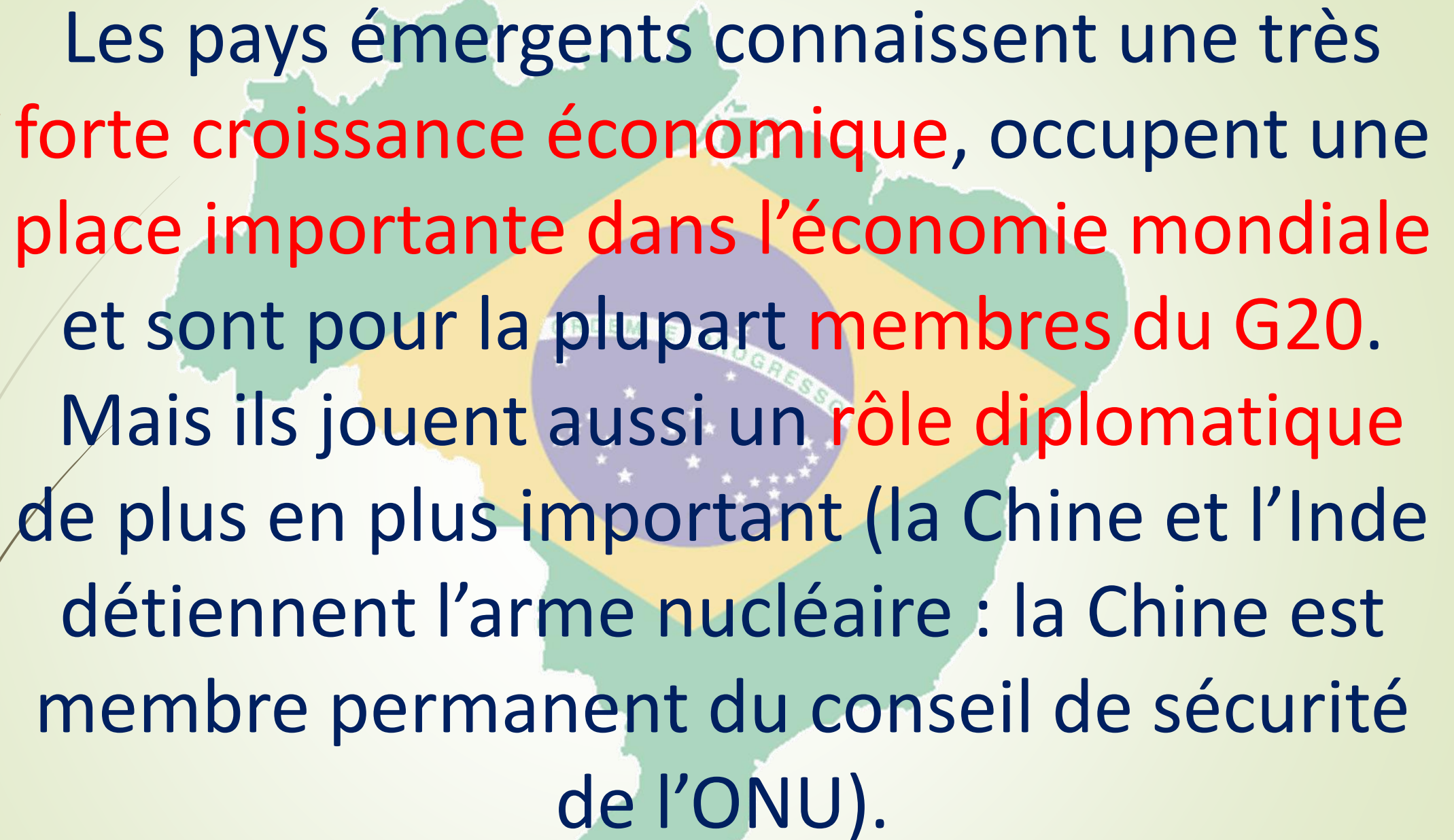
RUSSIE

CHINE

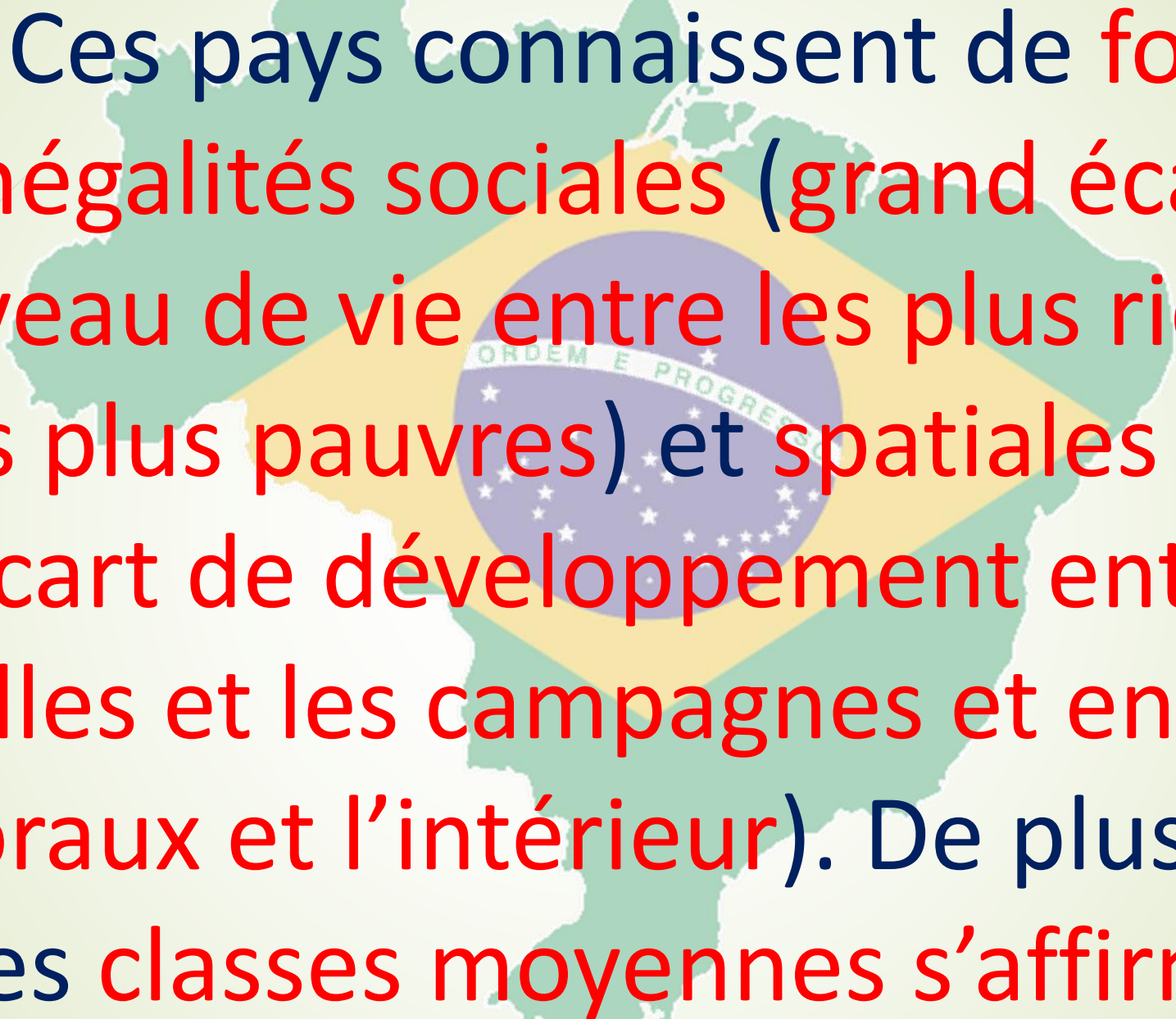
INDE



Les trois grandes puissances émergentes sont la **Chine**, l'**Inde** et le **Brésil**. Elles apparaissent comme représentatives d'un groupe d'Etats dont le **développement s'est accéléré** ces dernières décennies en raison d'une **politique d'ouverture**, d'une **bonne intégration à la mondialisation** et d'une **forte population**. Ils sont actuellement dans une **phase de transition** entre pays en développement et pays développés.



Les pays émergents connaissent une très forte croissance économique, occupent une place importante dans l'économie mondiale et sont pour la plupart membres du G20. Mais ils jouent aussi un rôle diplomatique de plus en plus important (la Chine et l'Inde détiennent l'arme nucléaire : la Chine est membre permanent du conseil de sécurité de l'ONU).

A map of South America is shown in a light green color. Overlaid on the map is the flag of Brazil, which consists of a green field with a large yellow rhombus in the center. Inside the rhombus is a blue globe with white stars and a white banner with the text "ORDEM E PROGRESSO".

Ces pays connaissent de fortes inégalités sociales (grand écart de niveau de vie entre les plus riches et les plus pauvres) et spatiales (grand écart de développement entre les villes et les campagnes et entre les littoraux et l'intérieur). De plus en plus les classes moyennes s'affirment.

I/ Le Brésil, une puissance émergente ouverte sur le monde

- grandes métropoles
- capitale politique

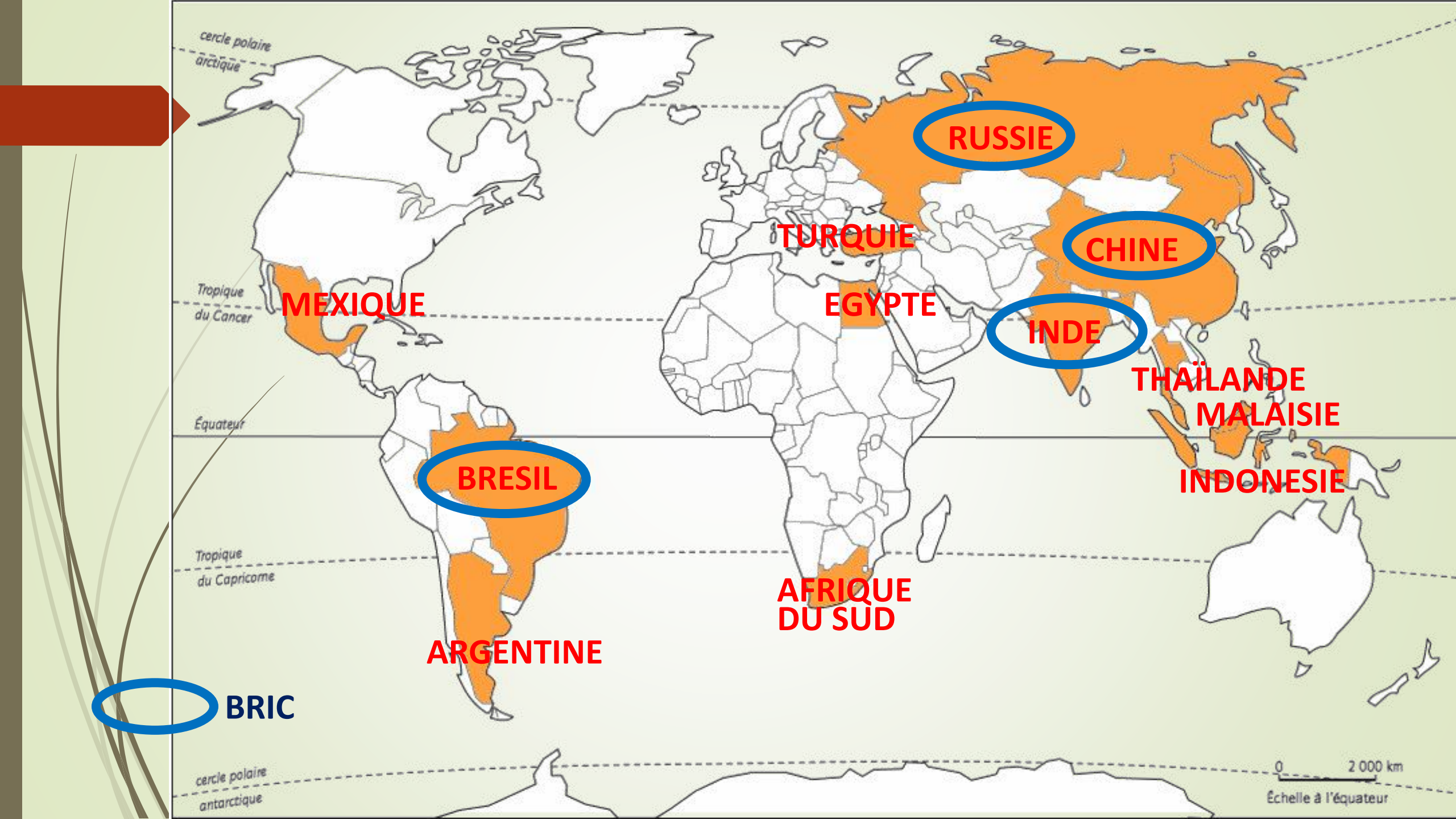


II/ Le Brésil, une puissance émergente avec des contrastes de développement

-
-
- Des régions à l'écart de la mondialisation

Les caractéristiques d'un pays émergent

<i>Les éléments de la montée en puissance</i>	Economie	Poids démographique	Commerce/mondialisation
	croissance économique annuelle très forte (4 à 10%)	main d'œuvre importante et nombreux consommateurs	Insertion croissante dans la mondialisation qui permet de réaliser d'importants bénéfices industrialisation
<i>Les conséquences de l'émergence</i>	...sur les conditions de vie	...sur les inégalités sociales	...sur les inégalités spatiales
	développement humain : meilleur accès à l'éducation, à l'alimentation, l'éducation, la médecine	Qui profite le plus ? les classes moyennes et riches Quelle catégorie en profite le moins ? les populations pauvres	Quels espaces profitent et alimentent la croissance ? Les littoraux, frontières, métropoles Quels espaces restent isolés ? périphéries intérieures



cercle polaire arctique

Tropique du Cancer

Équateur

Tropique du Capricorne

cercle polaire antarctique

RUSSIE

TURQUIE

CHINE

MEXIQUE

EGYPTE

INDE

THAÏLANDE

MALAISIE

INDONESIE

BRESIL

AFRIQUE DU SUD

ARGENTINE

BRIC

0 2 000 km

Échelle à l'équateur